

Т.В. Векшина М.Н. Алимбиева

# **ЗАДАНИЯ НА КАНИКУЛЫ**

**ОСЕННИЕ, ЗИМНИЕ, ВЕСЕННИЕ**

**3**  
класс

0+

**Татьяна Владимировна Векшина**  
**Мария Николаевна Алимпиева**  
**Задания на каникулы. 3 класс**  
Серия «Задания на каникулы», книга 3

*[http://www.litres.ru/pages/biblio\\_book/?art=40158532](http://www.litres.ru/pages/biblio_book/?art=40158532)*

*SelfPub; 2023*

### **Аннотация**

Сборник упражнений для самостоятельных занятий во время каникул (осенних, зимних, весенних). Для каждой каникул разработано по 5 занятий. Каждое занятие содержит задания по русскому языку и по математике. Задания на осенние и зимние каникулы разработаны в двух вариантах с учетом разницы в программе при обучении по четвертям и по триместрам. Пособие может использоваться родителями при самостоятельных занятиях с ребенком в дни школьных каникул, а также будет полезно репетиторам, гувернерам, няням.

# Содержание

Осенние каникулы (октябрь)	4
Занятие 1	4
Занятие 2	7
Занятие 3	10
Занятие 4	13
Занятие 5	16
Осенние каникулы (ноябрь)	19
Занятие 1	19
Занятие 2	22
Конец ознакомительного фрагмента.	24

**Татьяна Векшина,  
Мария Алимпиева  
Задания на  
каникулы. 3 класс**

**Осенние каникулы (октябрь)**

**Занятие 1**

**1. Подчеркни словосочетания.**

Играть в футбол, подул ветер, Оля читает, яркое солнце,  
быстро бегать, колючий ёж.

**2. Запиши синонимы к данным словам.**

Мороз, алый, кричать, огромный, мчаться, хохотать.

---

---

**3. Запиши лексическое значение для каждого слова.**

Осень, топор, тарелка, птица.

---

---

---

---

---

---

---

---

---

---

**4. Подчеркни выражения, которые можно заменить умножением.**

$$7 + 7 + 7 + 1 + 7$$


$$8 + 8 + 8 + 8$$

$$10 + 10 + 10$$

$$5 + 4 + 1 + 5 + 5 + 50$$

**5. Реши задачу.**

У Даши было 95 рублей. Она купила тетрадь за 18 рублей и ручку за 36 рублей. Сколько денег осталось у Даши?



**6. Вычисли, записывая примеры в столбик.**

$$71 + 29 =$$


$$90 - 58 =$$

$$46 + 39 =$$

$$82 - 35 =$$

$$64 + 18 =$$

$$100 - 31 =$$



## Занятие 2

### 1. Запиши к каждому слову антоним.

Холодный, потолок, право, север, молчать, тяжёлый.

---

---

### 2. Запиши словосочетания по данным схемам.

- 1) им. прил. + им. сущ.
- 2) гл. + им. сущ. с предлогом
- 3) гл. + им. сущ.
- 4) им. прил. + им. сущ.

---

---

---

### 3. Запиши предложение, расставь знаки препинания. Выдели грамматическую основу.

Вдруг подул сильный ветер и листья разноцветным дождём посыпались вниз.

---

---

#### 4. Вычисли.

$$3 \times 5 =$$

$$16 : 2 =$$

$$2 \times 4 =$$

$$21 : 3 =$$

$$4 \times 8 =$$

$$30 : 10 =$$

$$7 \times 2 =$$


$$15 : 3 =$$

#### 5. Реши уравнения.

$$y \times 2 = 18$$


$$x : 6 = 3$$

$$40 : x = 4$$



**6. Реши задачу.**

У Толи 8 наклеек, а у Олега – в 3 раза больше. Сколько наклеек у Олега?



## Занятие 3

**1. Запиши характеристику каждого предложения по цели высказывания и по интонации.**

Наступила весна.

---

Скоро праздник!

---

Когда мы поедем на дачу?

---

**2. Запиши для каждого слова сначала синоним, а потом антоним.**

Холод, большой, кричать.

---

---

---

---

---

**3. Запиши предложение, выполни синтаксический разбор. Выпиши словосочетания.**

За ночь все деревья и дорожки покрылись тонким слоем инея.

**4. Вычисли.**

$$50 - 3 \times 7 =$$

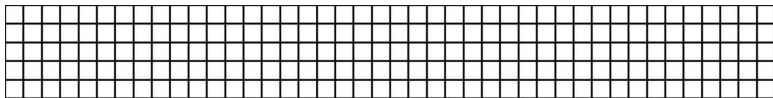
$$31 + 8 \times 2 =$$

$$100 - 3 \times 4 + 10 =$$

$$47 + 9 \times 3 - 5 =$$


**5. Реши задачу.**

За 4 одинаковых ластика заплатили 20 рублей. Сколько стоит один ластик?



**6. Реши задачу.**

Длина прямоугольника 8 см, ширина – в 2 раза меньше. Вычисли периметр этого прямоугольника.



# Занятие 4

**1. Выпиши предложения с обращениями, расставляя знаки препинания.**

Аня рисует в альбоме.

Таня прочитай нам сказку.

Почему Саша ты не сделал уроки?

---

---

---

**2. Запиши в каждую группу по 2-3 слова.**

Рыбы:

---

Растения:

---

Продукты питания:

---

Времена года:

---

**3. Запиши предложение, выполни синтаксический разбор. Расставь знаки препинания.**

В выходные бабушка пекла пирог и варила щи а мама стирала бельё.

---

---

**4. Вычисли.**

$$8 \times 3 =$$

$$30 : 3 =$$

$$7 \times 2 =$$

$$18 : 2 =$$

$$4 \times 6 =$$

$36 : 4 =$

$3 \times 4 =$

$12 : 3 =$

**5. Сравни. Вставь знаки «>», «<» или «=».**

$8 \times 4 \dots 4 \times 7$

$3 + 3 + 3 \dots 3 \times 4$

$10 \times 2 \dots 2 \times 10$


$2 + 2 + 2 + 2 + 2 \dots 5 \times 3$

$4 \times 3 \dots 3 \times 2$

$8 \times 2 \dots 9 \times 2$

**6. Реши задачу.**

Периметр квадрата равен 20 см. Чему равна сторона этого квадрата?



## Занятие 5

### 1. Запиши название каждой группы слов.

Заяц, лиса, тигр – \_\_\_\_\_

Лопата, топор, клещи – \_\_\_\_\_

Кофе, чай, сок – \_\_\_\_\_

Яблоко, банан, груша – \_\_\_\_\_

### 2. Составь и запиши два предложения про щенка. Первое – простое, второе – сложное. Разбери оба предложения по членам.

---

---

---

### 3. Составь и запиши текст на тему «Новый год», состоящий из 4 – 6 предложений.

---

---

---

---

---


---

---

---

#### 4. Реши задачу.

Блокнот стоит 32 рубля, а карандаш – в 4 раза меньше.  
Сколько стоят карандаш и блокнот вместе?



#### 5. Вычисли.

$$2 \times (40 - 35 + 4) =$$


$$36 : (27 - 9 \times 2) =$$

$$81 : 9 + 42 - 24 =$$

$$(100 - 80) : 5 \times 9 =$$

$$90 - 36 + 42 : 7 =$$

**6. Найди значения выражений  $a: 2$  и  $3 \times a$ , при  $a = 2, 4, 6, 8$ .**



# Осенние каникулы (ноябрь)

## Занятие 1

**1. Выпиши группы однокоренных слов. Выдели корни.**

Приморский, речка, речушка, река, морские, моряк, речной, море.

---

---

**2. Запиши предложение. Вставь пропущенные буквы и знаки препинания. Выполни синтаксический разбор.**

К веч..ру пошёл сне.. и мы сл..пили сн..говика.

---

---

**3. Подчеркни слова, которые являются омонимами.**

Печь, кошка, мышка, учебник, ключ, язык.

**4. Вычисли.**

$$7 \times 6 =$$

$$5 \times 9 =$$

$$8 \times 6 =$$

$$9 \times 8 =$$

$$40 : 8 =$$

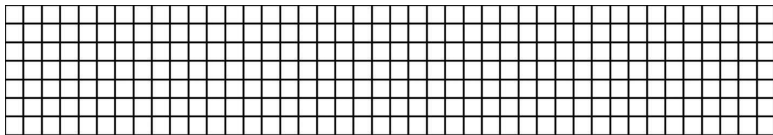
$$36 : 6 =$$

$$50 : 10 =$$


$$56 : 7 =$$

**5. Реши задачу.**

Ире 4 года, а Катя – на 8 лет старше. Во сколько раз Катя старше Иры?



**6. Начерти прямоугольник со сторонами 4 см и 2 см. Вычисли площадь этого прямоугольника.**



## Занятие 2

### 1. Выпиши имена числительные.

Много, второе, всего, сто, сорок три, пятьсот восемь.

---

---

### 2. Выпиши фразеологизмы.

Встать на табуретку, на краю света, бить баклуши, золотые руки, на краю полянки, встать не с той ноги, золотые серьги, бить кулаком.

---

---

---

---

---

---

---

### 3. Запиши предложения, распространяя их. Разме-

**ри получившиеся предложения по членам.**

# Конец ознакомительного фрагмента.

Текст предоставлен ООО «Литрес».

Прочитайте эту книгу целиком, [купив полную легальную версию](#) на Литрес.

Безопасно оплатить книгу можно банковской картой Visa, MasterCard, Maestro, со счета мобильного телефона, с платежного терминала, в салоне МТС или Связной, через PayPal, WebMoney, Яндекс.Деньги, QIWI Кошелек, бонусными картами или другим удобным Вам способом.